


Отчёт о непрерывной дистанционной образовательной деятельности за 10.04.2020г.
01 группа









ДАНИЛ



БОБА . 3




САМУРА















2020-4-13 13:31



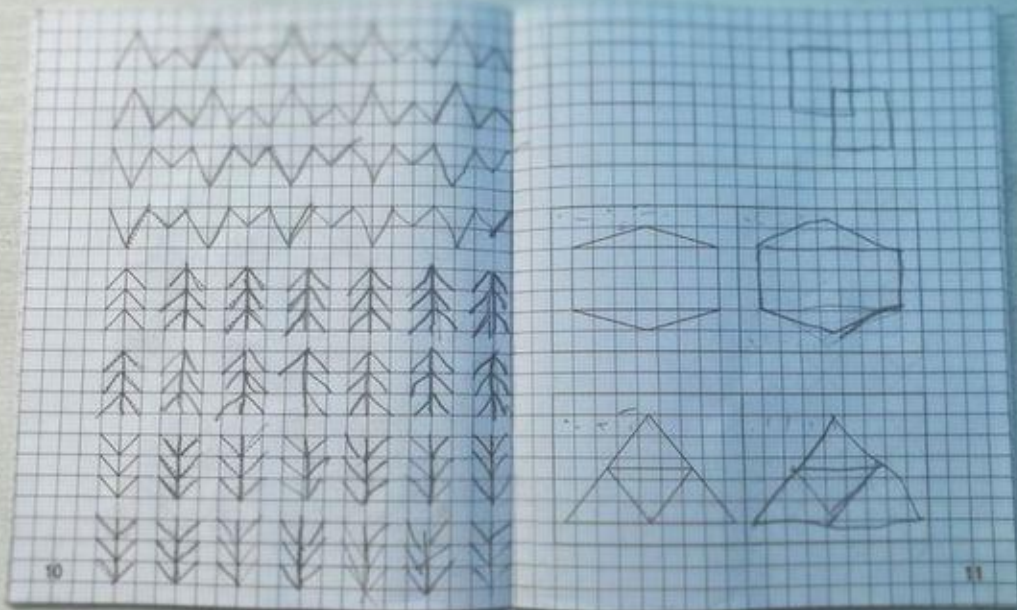


02 группа










На уроке


Свинка пришла учиться в школу, но никак не может справиться с математикой. Помоги ей: впиши нужные числа в пустые кружочки.

А теперь в твоей помощи нуждается черепаха. Помоги ей подобрать правильные числа.


$1 + 6 = 7$
 $10 - 1 = 9$




$4 - ? = 2$
 $? + 3 = 5$




$1 + 4 = 14$
 $9 - 1 = 8$




$3 + 1 = 4$
 $10 - 2 = 8$



$9 - 7 = 2$
 $9 + 3 = 12$



$7 - 4 = 3$
 $11 - 6 = 5$



Учимся решать примеры на сложение и вычитание.

132133

Задачи в рисунках

В мире животных

Послушай условия задач, реши их и запиши решение.

На лугу паслись 2 коровы и 1 бычок. К ним пришед еще 1 бычок. Сколько всего животных стало на лугу?



$$2 + 1 + 1 = 4$$

На полянке было 3 цыпленка и 1 курочка. Сколько всего птиц было на полянке?



$$3 + 1 = 4$$

2 черепахи пригласили на морскую прогулку 4 рыбки. Сколько всего водных обитателей отправилось на прогулку?



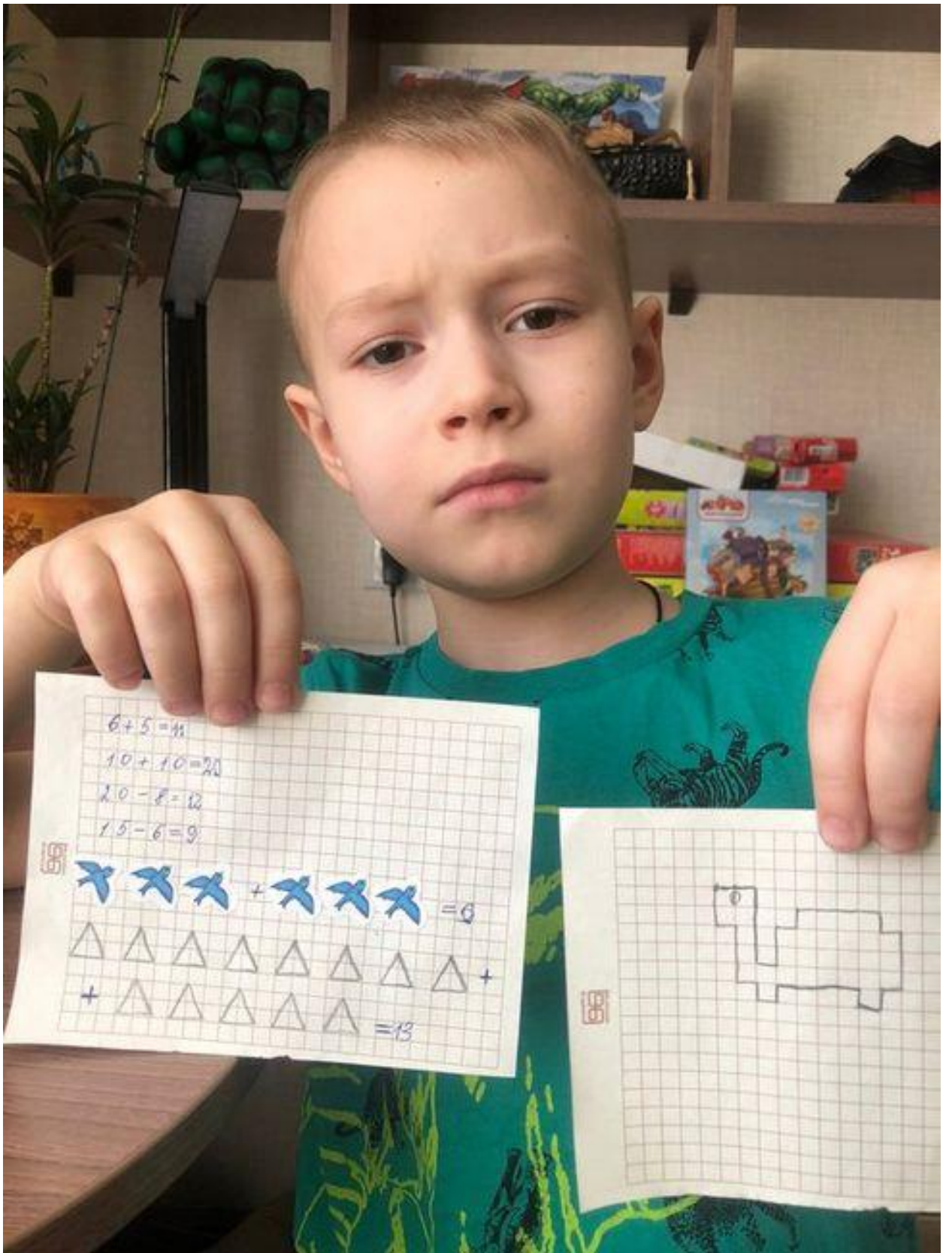
$$2 + 4 = 6$$

В морской пещере живут 5 рыбок и 1 краб. Сколько всего подводных обитателей живет в пещере?



$$5 + 1 = 6$$

Учимся решать задачи.



$$6 + 5 = 11$$

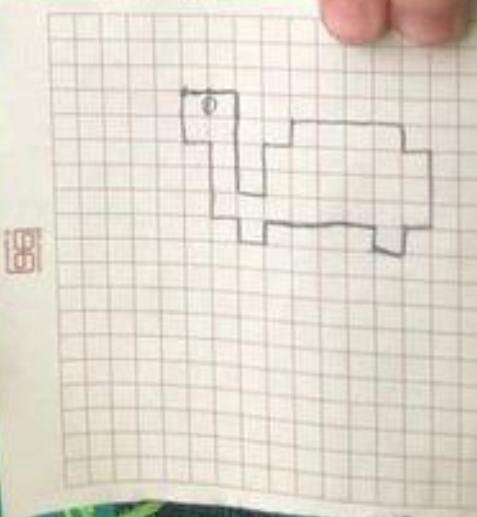
$$10 + 10 = 20$$

$$20 - 8 = 12$$

$$15 - 6 = 9$$

✂ ✂ ✂ + ✂ ✂ ✂ = 6

△ △ △ △ △ △ △ △ +
+ △ △ △ △ △ = 13






примеры

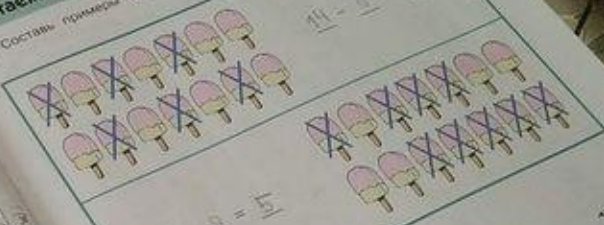
Примеры и вписывай ответы в клеточки. Раскрась бабочки с цифрой 7 красным карандашом, с цифрой 8 — синим, с цифрой 9 — зеленым.

- 6 =
- 1 =
- 6 =
- 1 - 2 =
- 13 - 4 =
- 15 - 7 =
- 10 - 4 =
- 12 - 3 =
- 14 - 5 =
- 4 =



Считаем эскизо

Составь примеры по рисункам и реши их.



$11 - 2 = 9$

$11 - 9 = 2$

$14 - 9 = 5$

Найди разности.

$14 - 7 = 7$

$14 - 11 = 3$

$14 - 10 = 4$

$14 - 10 = 4$

$14 - 11 = 3$

ENI 0+

 ООО «Издательство «Детство»»

 125008, Москва, ул. Мухоморова, д. 20А

 Тел: 8 (495) 787-14-00

 2014 ISBN 978-5-08-044713-3

10 10 10 10 10

20 30 40 50

$$10 + 10 = 20$$

$$20 + 10 = 30$$

$$30 + 10 = 40$$

$$40 + 10 = 50$$





Сколько всего табуреток сделали ученики?
 $10 + 7 = 17$

Ответ: 17

● Поставь знак < или >.

- 15 < 17
- 16 > 15
- 11 < 10
- 19 > 16
- 13 < 14
- 18 < 20
- 20 > 19
- 12 < 17
- 16 < 19

● Раскрась синим цветом те клетки таблицы, в которых значения выражений равны 11, а жёлтым — 10.

$12 - 2$	$13 - 2$	$7 + 2$	$6 + 4$	$11 - 1$
$3 + 7$	$12 - 10$	$16 - 5$	$10 + 1$	$14 + 2$
$5 + 5$	$13 - 3$	$18 - 8$	$14 - 2$	$15 - 4$

● Реши задачу.
На озере плавали ещё 4. Сколько

и пи-
а на рас-
сливы.
вы, но
кты по
3
ия.

*21 марта.

19 18 18 17 18 19 20

10 11 12 13 14 15 18 17

20 19 18 17 16 15 14 13 12

17 > 11 > < 13 < 18

16 < 20 14 < 15

19 > 12 15 > 10

11 > 10 20 > 12

14 + 1 < 17 11 + 1 > 9

Прочитай и реши задачи:

□ □ □ ◊ ◊ ◊ ◊

$$8 - 5 = 3 \text{ (к.) } \text{ОТВЕТ: } 3 \text{ к.}$$

△ △ △ △ △ ▲ ▲ ▲ ▲

$$6 + 4 = 10 \text{ (т.) } \text{ОТВЕТ: } 10 \text{ т.}$$

РЕШИ ПРИМЕРЫ:

$$10 + 7 = 17$$

$$10 + 2 = 12$$

$$10 + 6 = 16$$

$$10 + 5 = 15$$

$$17 - 7 = 10$$

$$12 - 10 = 2$$

$$16 - 6 = 10$$

$$15 - 10 = 5$$

$$16 + 1 = 17$$

$$18 + 1 = 19$$

$$13 + 1 = 14$$

$$11 + 1 = 12$$

$$16 - 1 = 15$$

$$12 - 1 = 11$$

$$20 - 1 = 19$$

$$15 - 1 = 14$$



1 АПРЕЛЯ

Я $10 + 6 = 16$

Й $12 - 3 = 9$

Б $18 - 8 = 10$

Ч $10 + 2 = 12$

О $8 - 5 = 3$

Л $10 - 5 = 5$

Ы $9 - 3 = 6$

Н $10 + 8 = 18$

16	10	5	3	12	18	6	9
Я	Б	Л	О	Ч	Н	Ы	Й



Ж

☆ ☆ ☆ ☆ ☆ ☆ ☆ ☆

ЖУК



ЛУЖА



ЖИРАФ



МОРЖ



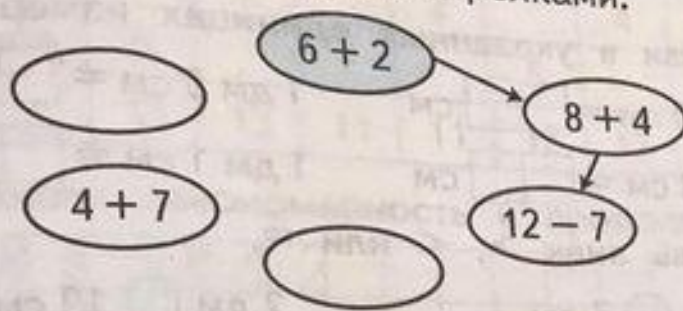
ДРУЖОК



ЖУЧКА



Закономерность. Дополни недостающие примеры, соедини стрелками.



Устно реши задачи. Запиши ответы.

- Наш дом пятиэтажный, а соседний — трёхэтажный. Сколько этажей в двух домах?

- В вазе 6 жёлтых роз и столько же белых. Сколько роз в вазе?

р.

- У Вали 6 кукол, а у Маши 4. На сколько больше кукол у Вали, чем у Маши?

- Костя задумал число, прибавил к нему 8 и получил 10. Какое число задумал Костя?

Запиши числа, в которых:

1 десяток и 6 единиц

5 единиц и 1 десяток

7 единиц и 1 десяток

2 единицы и 1 десяток

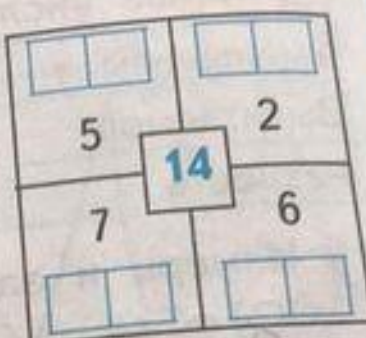

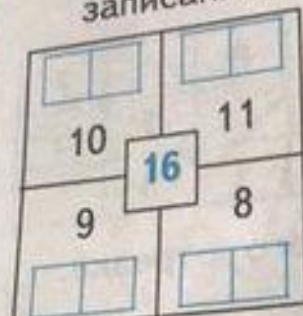
1 десяток и 9 единиц

● Сколько всего ...
 $6 + 4 + 2 =$ $5 + 5 + 4 =$

Сколько всего вычли?
 $13 - 3 - 4 =$ $11 - 1 - 2 =$

$14 - 4 - 7 =$

● Запиши числа так, чтобы в каждой части квадрата при сложении получился результат, записанный в центре.

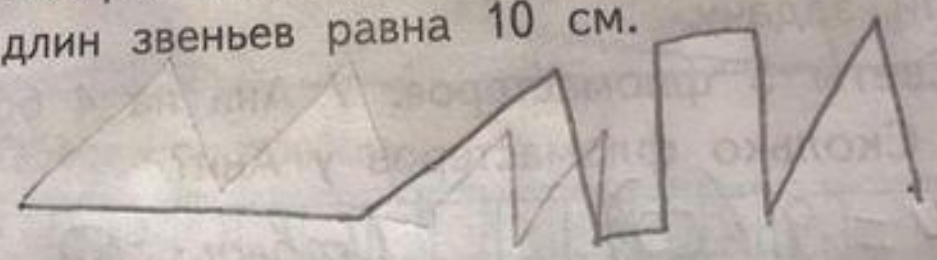



● Числа в левой таблице увеличь на 1, а в правой уменьши на 1.

13	10	19	17	14
14	11	20	18	15

20	12	16	18	14
19	11	15	17	13

✓ Начерти ломаную из трёх звеньев. Сумма длин звеньев равна 10 см.





03 группа





Мисис Визан



Полчана Ц.

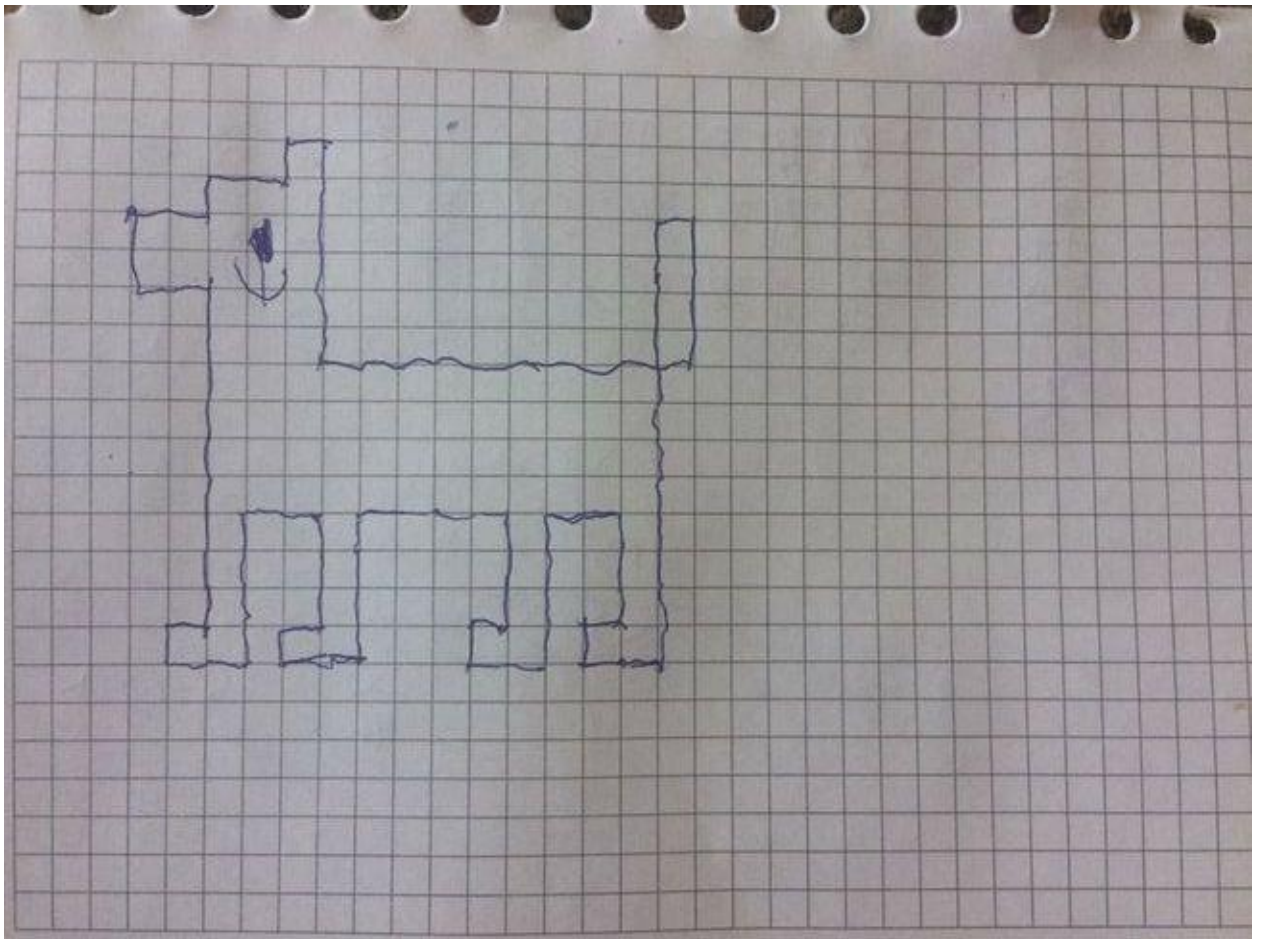




Варвара С.



04 группа




















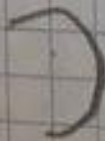

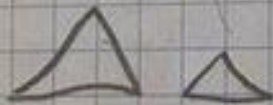

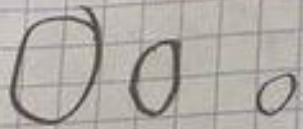
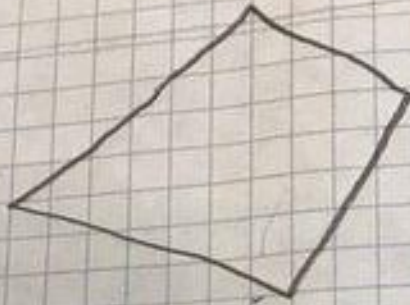








$$10 - 2 = 8$$



$$10 + 10 = 20$$

2

20 2020 20 20 20 20

~~20~~ 2020 20 20 20 20

$$10+2$$

$$14-1$$

$$12+1$$

$$15+1$$

$$18-1$$

$$10+9$$

12

13

14

15

16

17

18

19

$$10 + 10 = 20$$

20

20

20

20 20 20 20 20

$$10 + 2$$

$$14 - 1$$

$$12 + 1$$

$$15 + 1$$

$$18 - 1$$

$$10 + 0$$

12

13

14

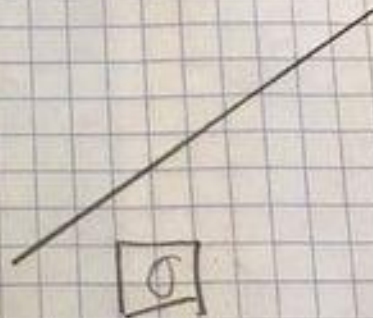
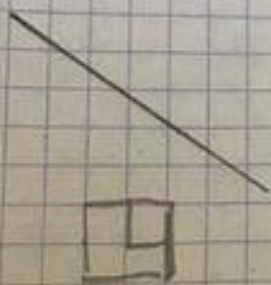
15

16


17


18


19




$$10 - 9 = 1$$







10 0 10 10



$$10 + 10 = 20$$

$$20 \quad 20 \quad 20 \quad 20 \quad 20 \quad 20$$

$$20 \quad 20 \quad 20 \quad 20 \quad 20 \quad 20$$

$$12 + 2 \quad 14 - 1 \quad 13 + 1$$

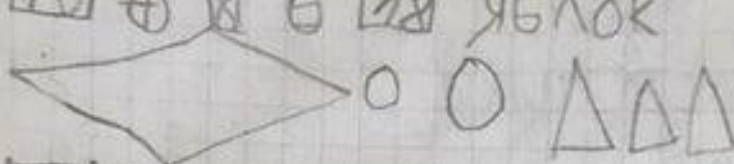
$$12 \quad 13 \quad 14 \quad 15 \quad 16 \quad 17 \quad 18$$

$$15 + 1 \quad 18 - 1 \quad 10 + 9$$

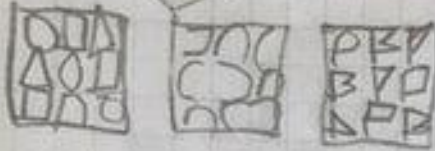
1

ЯБЛОК

2



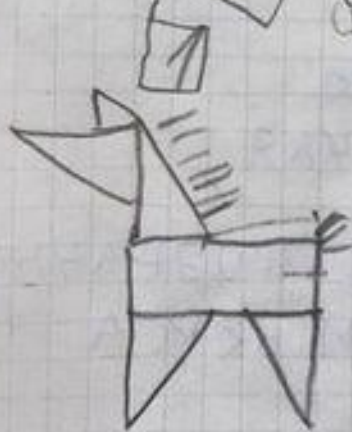
3



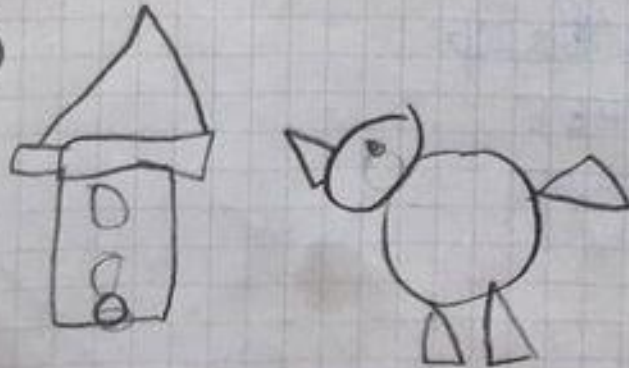
4



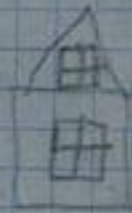
5



6







* 20 20 20 20 20 20 20 20 20 20
20 20 20 20 20 20 20 20 20 20

* $10 + 2 = 12$ $14 - 1 = 13$ $12 + 1 = 13$

12 13 14 15 16 17 18 19

$15 + 1 = 16$

$17 - 1 = 16$

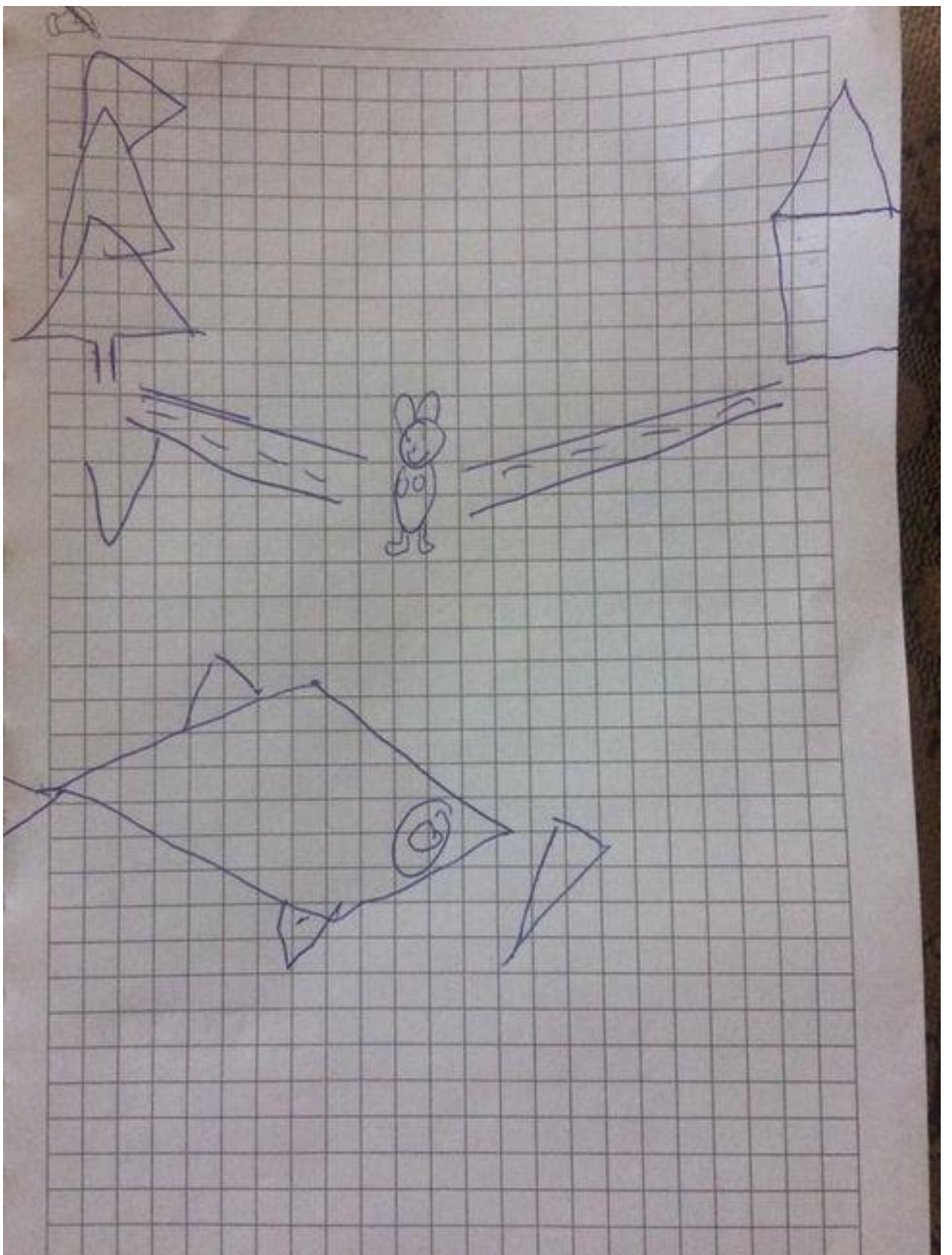
$10 + 9 = 19$

$10 - 10 = 20$

$10 + 8 = 18$



* $17 - 9 = 8$



20 20 20 20 20 20 20

20 20 20 20 20 20 20

$$10 + 2 = 12$$


$$10 + 9 = 19$$

$$14 - 1 = 13$$

$$15 + 1 = 16$$

$$12 + 1 = 13$$

$$18 - 1 = 17$$



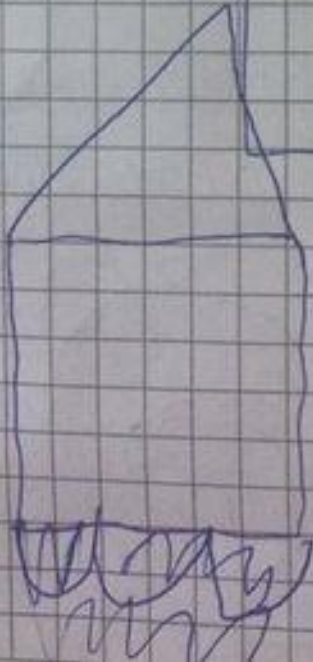
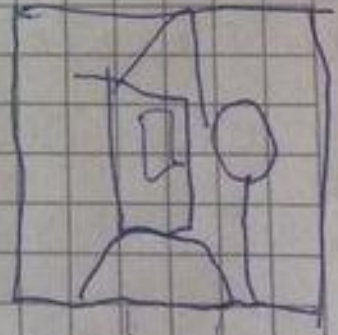
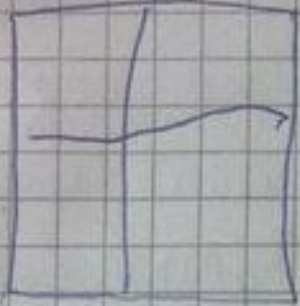
$$10 + 10 = 20$$

$$10 + 8 = 18$$

Задание 1.

$$10 + 10 = 20$$

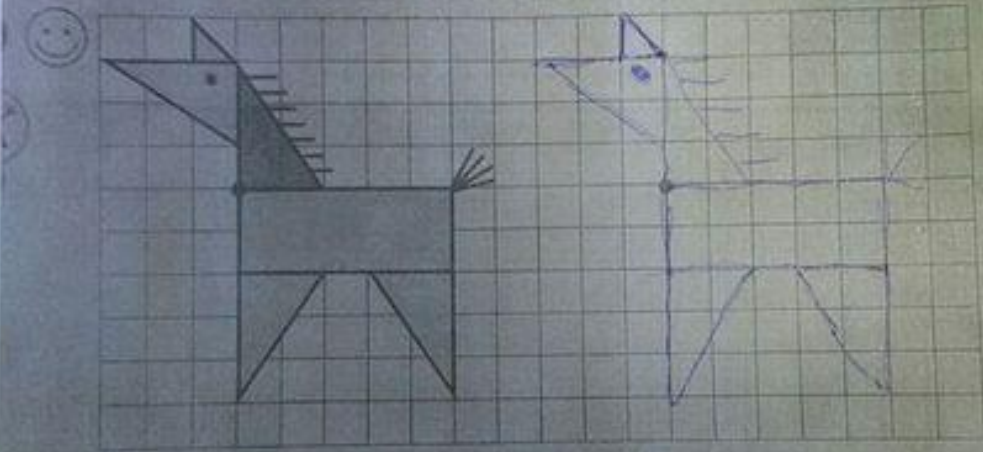
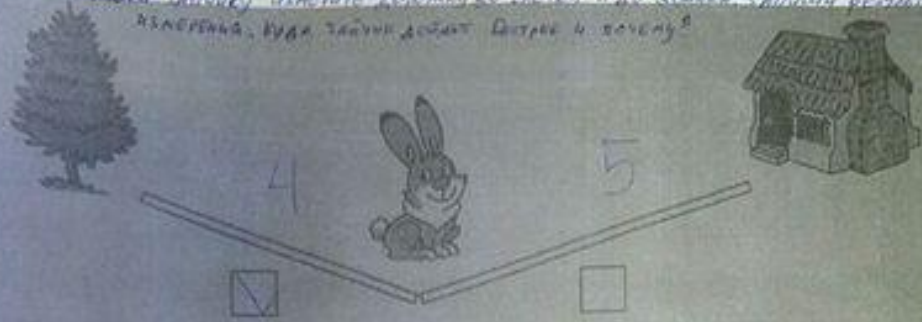
Задание 2.




05 группа



Помоги зайчику изменить дорожку до Елочки и до Домика. Заполни результаты измерения, куда зайчик добрался быстрее и почему?



Раскрась предмет, который выкладывал зайка. Что выкладывал мишка? Раскрась этот предмет правильно?



1 ☺

1,2,3



$$10 + 10 = 20$$

2 ☺

1,2,3

20	20	20	20	20	20	20	20
20	20	20	20	20	20	20	20

3

Соедини каждый пример с числом, которое получается в ответе. Прочитай запись.

1,2,3

$$10 + 2$$

$$14 - 1$$

$$12 + 1$$

12

13

14

15

16

17


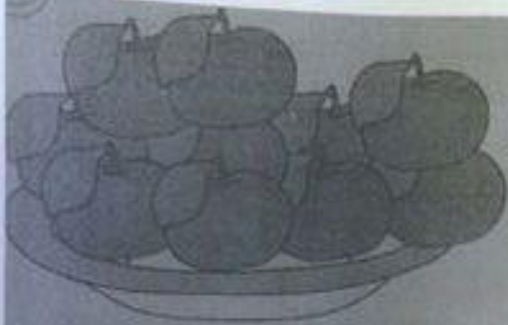
18

19

$$15 + 1$$


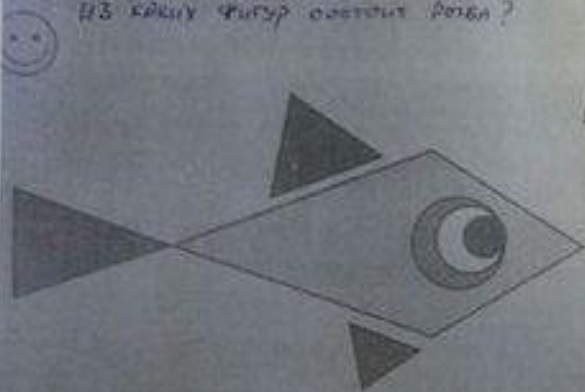
$$18 - 1$$

$$10 + 9$$



$$\boxed{70} \oplus \boxed{2} = \boxed{78}$$

Из каких фигур состоит рыба?




Нарисуй недостающую фигуру, используя соответствующую закономерность.

1



123



$$\boxed{70} + \boxed{10} = \boxed{70}$$

2

Дорисуй квадраты так, чтобы получились предметы.

